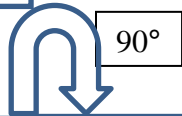




Rotation dans le sens horaire autour un sommet

(Pour t'aider à visualiser, emploie 2 règles et fait tourner le rectangle toi-même)

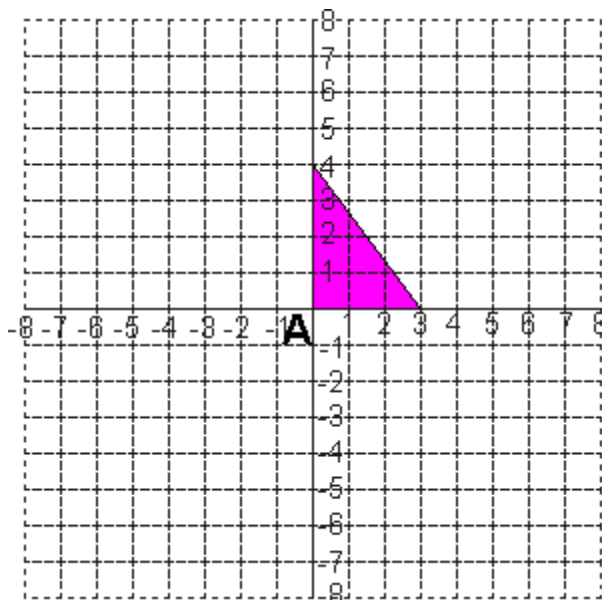
Rotation autour ce point dans le sens horaire



90°




180°



270°



360°



Trace la rotation du triangle de 90° et 180° dans le sens horaire